

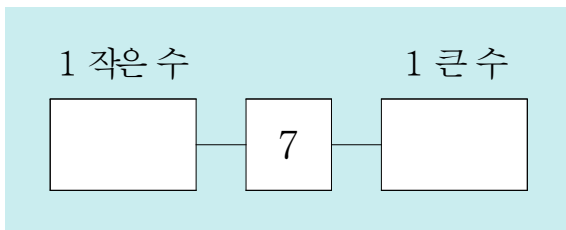
2018학년도 기초학력 진단검사

셈하기 [탄탄1]

() 학교 () 학년 () 반 () 번 이름 ()

※ 문항지의 문항 수(25문항)와 면수(4면)를 확인하시오.
 ※ 답안지에 학교명, 학년, 반, 번호, 이름을 정확히 쓰시오.

1. 다음 □에 들어갈 수를 써넣으시오.

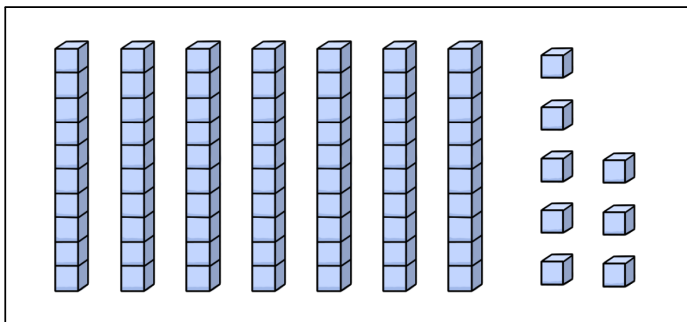


2. 다음은 어떤 수인지 □에 써넣으시오.

- 오십 또는 쉰이라고 읽습니다.
- 마흔아홉보다 하나 더 많습니다.

□

3. 다음 수모형이 나타내는 수는 어느 것입니까? ()



- ① 68 ② 78
- ③ 87 ④ 88

4. 두 수를 비교한 것으로 옳은 것은 어느 것입니까? ()

- ① $32 < 38$ ② $55 < 41$
- ③ $72 > 79$ ④ $88 > 96$

5. 다음 밑줄 친 수에 대한 설명으로 옳은 것은 어느 것입니까? ()

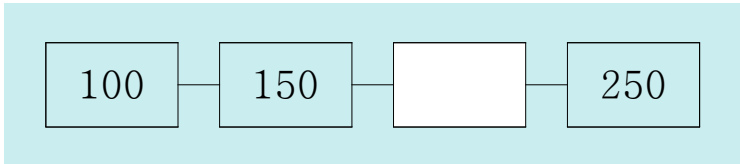
572

- ① 7을 나타냅니다.
- ② 72를 나타냅니다.
- ③ 십의 자리 숫자입니다.
- ④ 백의 자리 숫자입니다.

6. 다음 □에 들어갈 수를 써넣으시오.



50씩 뛰어서 세어 볼까?




7. 다음 □에 들어갈 수를 써넣으시오.

$$7349 = \square + 300 + 40 + 9$$

8. 다음 두 수를 비교하여 ○에 >, < 를 써넣으시오.

$$5307 \quad \bigcirc \quad 5640$$

9. 다음 그림을 식으로 나타낸 것으로 옳은 것은 어느 것입니까? ()

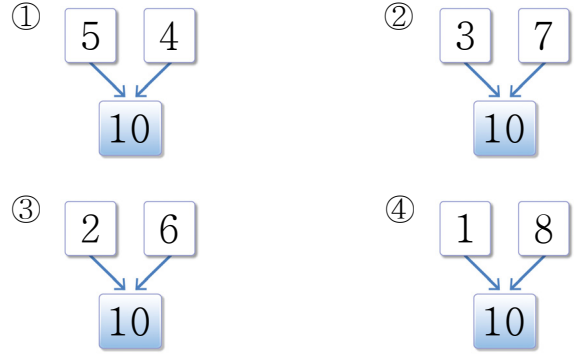


- ① $3 + 5 = 8$ ② $5 - 3 = 2$
- ③ $8 - 3 = 5$ ④ $8 - 5 = 3$

10. 다음을 계산하시오.

$$6 + 3 - 4 = \square$$

11. 두 수를 10이 되도록 모은 것은 어느 것입니까?()



[12 ~ 14] 다음 □에 들어갈 수를 써넣으시오.

12.

$$\begin{array}{r} 46 \\ + 9 \\ \hline 5 \square \end{array}$$

13.

$$\begin{array}{r} \square 3 \\ + 17 \\ \hline 40 \end{array}$$

14.

$$\begin{array}{r} 82 \\ - 34 \\ \hline \square \end{array}$$

15. 다음 □에 들어갈 수를 써넣으시오.

$$83 - 29 = 54$$

↓

$$\square + 29 = \square$$

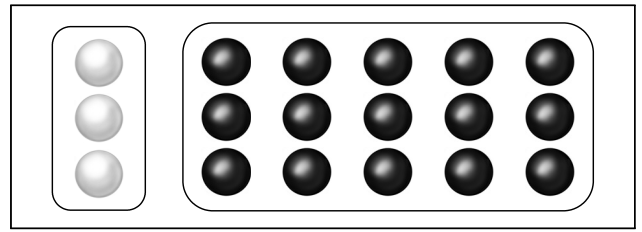
16. 다음을 계산하시오.

$$46 + 32 - 10 = \square$$

17. 35와 어떤 수의 차는 24입니다. 어떤 수를 □로 하여 나타낸 식으로 옳은 것은 어느 것입니까? …… ()

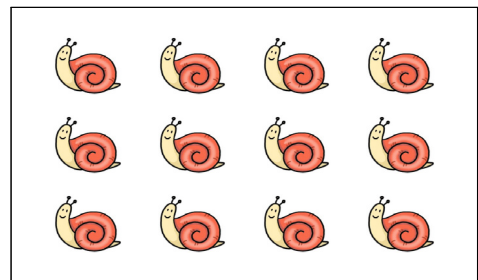
- ① $\square - 24 = 11$ ② $24 - \square = 11$
- ③ $35 - \square = 24$ ④ $\square - 35 = 59$

18. 다음 그림의 검은색 바둑돌 수는 흰색 바둑돌 수의 몇 배입니까?




배

19. 다음 그림의 달팽이는 모두 몇 마리인지 나타낸 것으로 옳지 않은 것은 어느 것입니까? …… ()



- ① 4의 3배 ② $4 + 4 + 4$
- ③ 4씩 3묶음 ④ 4와 3의 합

20. 다음 그림에서 연필이 모두 몇 개인지 곱셈식으로 나타낸 것으로 옳은 것은 어느 것입니까? …… ()



- ① 1×6 ② 3×6
- ③ 6×5 ④ 6×6

21. 8의 단 곱셈구구로 옳은 것은 어느 것입니까? ()


- ① $8 \times 3 = 24$
- ② $8 \times 4 = 34$
- ③ $8 \times 6 = 42$
- ④ $8 \times 7 = 54$

22. 다음 □에 공통으로 들어갈 수를 써넣으시오.

$$\square \times 4 = 20$$

$$9 \times \square = 45$$

23. 다음 세발자전거 5대의 바퀴 수로 옳은 것은 어느 것입니까? ()



- ① 8개
- ② 15개
- ③ 18개
- ④ 20개

24. 다음 □에 들어갈 수로 옳은 것은 어느 것입니까?
..... ()



7 × 4는 7 × 3보다
□만큼 더 커요.

- ① 3
- ② 4
- ③ 7
- ④ 10

25. 다음 곱셈표를 완성하시오.

×	3	5	7	9
6	18	30	42	54
9	27	45		81

♣ 수고하였습니다. ♣
답안지에 답을 정확히 표기하였는지 확인하시오.